

| | | | |
|---|--|---|--|
| 1 | In the context of Banking and Financial Services Sector in India what is the fullform of RTGS? A. Real Time Gross Settlement B. Random Time Gross Settlement C. Real Time Gain Settlement D. Reel Time Gain Settlement | 1 | भारत में बैंकिंग और वित्तीय सेवा प्रणाली के संदर्भ में RTGS का फुलफॉर्म क्या है? A. Real Time Gross Settlement B. Random Time Gross Settlement C. Real Time Gain Settlement D. Reel Time Gain Settlement |
| 2 | 'Forms of Oath or Affirmations' on the basis of which oaths are governed are given in which schedule of the Constitution A. Second Schedule B. Third Schedule C. Sixth Schedule D. Eighth Schedule | 2 | 'शपथ या प्रतिज्ञान के प्रारूप' जिनके आधार पर शपथ नियंत्रित की जाती है, संविधान की किस अनुसूची में दिए गए हैं? A. दूसरी अनुसूची B. तीसरी अनुसूची C. छठी अनुसूची D. आठवीं अनुसूची |
| 3 | Brihadishwara Temple, which is often in news, is located in A. Chennai B. Thanjavur C. Kanchipuram D. Ramanathapuram | 3 | बृहदेश्वर मंदिर, जो प्रायः समाचारों में होता है, निम्नलिखित में से किस में स्थित है? A. चेन्नई B. तंजावुर C. कांचीपुरम D. रामनाथपुरम |
| 4 | Which Schedule of the Constitution contains three kinds of list viz. Union List, State List & Concurrent List dealing with the division of powers between the Union Government and State Governments? A. First Schedule B. Fourth Schedule C. Seventh Schedule D. Tenth Schedule | 4 | संविधान की किस अनुसूची में केंद्र सरकार और राज्य सरकारों के बीच शक्तियों के विभाजन से संबंधित तीन प्रकार की सूची अर्थात् संघ सूची, राज्य सूची और समवर्ती सूची शामिल है? A. पहली अनुसूची B. चौथी अनुसूची C. सातवीं अनुसूची D. दसवीं अनुसूची |
| 5 | Lovlina Borgohain is associated with which of the following sports? A. Boxing B. Weightlifting C. Swimming D. Archery | 5 | लवलीना बोरगोहैन निम्नलिखित खेलों में से किससे जुड़ी हुई है? A. बॉक्सिंग B. भारोत्तोलन C. तैराकी D. तीरंदाजी |
| 6 | The Vikram Sarabhai Space Centre is located at which of the following A. Sriharikota B. Thiruvananthapuram C. Trombay | 6 | विक्रम साराभाई अंतरिक्ष केंद्र निम्नलिखित में से किस में स्थित है A. श्रीहरिकोटा |

| | | | |
|----|---|----|---|
| | D. Kozhikode | | B. तिरुवनंतपुरम C. ट्रॉम्बे D. कोझिकोड |
| 7 | ISRO Space Application Centre is located at which of the following place? A. Kota B. Cuttack C. Mandya D. Ahmedabad | 7 | ISRO अंतरिक्ष अनुप्रयोग केंद्र निम्नलिखित में से कहां स्थित है? A. कोटा B. कटक C. मांड्या D. अहमदाबाद |
| 8 | Oinam Bemem Devi is associated with which sports? A. Shooting B. Archery C. Hockey D. Football | 8 | ओइनम बेमबेम देवी किस खेल से जुड़ी हैं? A. शूटिंग B. तीरंदाजी C. हॉकी D. फुटबॉल |
| 9 | Pandit Chhannulal Mishra, Padma Vibhushan awardee, is A. Flute player B. Kathak dancer C. Sitar Maestro D. Hindustani Classical Vocalist | 9 | पंडित छन्नूलाल मिश्र, पद्म विभूषण पुरस्कार विजेता निम्नलिखित में से क्या हैं? A. बांसुरी वादक B. कथक नर्तक C. सितार वादक D. हिंदुस्तानी शास्त्रीय गायक |
| 10 | Which of the following erstwhile RBI Governor was conferred with the first Professor P. C. Mahalanobis National Award in Official Statistics for lifetime achievement in year 2020 A. C. Rangarajan B. Bimal Jalan C. Urjit Patel D. R. N. Malhotra | 10 | निम्नलिखित में से किस पूर्ववर्ती भारतीय रिजर्व बैंक के गवर्नर को वर्ष 2020 में लाइफटाइम अचीवमेंट के लिए आधिकारिक सांख्यिकी में प्रथम प्रोफेसर पी. सी. महालनोबिस राष्ट्रीय पुरस्कार से सम्मानित किया गया। A. सी. रंगराजन B. बिमल जालान C. उर्जित पटेल D. आर. एन. मल्होत्रा |
| 11 | What is the full form of NPCI, in the context of Banking and Financial Services Sector of India? A. National Payments Corporation of India B. National Professional Company Institute C. National Public Corporate | 11 | भारत के बैंकिंग और वित्तीय सेवा क्षेत्र के संदर्भ में NPCI का पूर्ण रूप क्या है? A. National Payments Corporation of India B. National Professional Company Institute C. National Public Corporate |

| | Investment D. National Private Company Investment | | Investment D. National Private Company Investment |
|----|---|----|---|
| 12 | Which part of the Indian Constitution deals with the Fundamental Duties? A. Part I B. Part III C. Part IV D. Part IV A | 12 | भारतीय संविधान का कौन सा भाग मूल कर्तव्यों से संबंधित है? A. भाग 1 B. भाग 2 C. भाग 4 D. भाग 4क |
| 13 | Rani-ki-Vav (The Queen's Stepwell), which is in the UNESCO World Heritage List, is located in: A. Madhya Pradesh B. Gujarat C. Uttar Pradesh D. Rajasthan | 13 | रानी-की-वाव (रानी का स्टेपवेल), जो यूनेस्को (UNESCO) की विश्व धरोहर सूची में है, निम्नलिखित में से किस में स्थित है: A. मध्य प्रदेश B. गुजरात C. उत्तर प्रदेश D. राजस्थान |
| 14 | Fundamental Right related to Abolition of Untouchability is provided in which Article of the Constitution of India? A. Article 27 B. Article 17 C. Article 24 D. Article 51 | 14 | भारत के संविधान के किस अनुच्छेद में अस्पृश्यता के अंत के सम्बन्ध में मूल अधिकार दिया गया है? A. अनुच्छेद 27 B. अनुच्छेद 17 C. अनुच्छेद 24 D. अनुच्छेद 51 |
| 15 | Tarundeep Rai is associated with which sports? A. Archery B. Shooting C. Swimming D. Chess | 15 | तरुणदीप राय किस खेल से जुड़े हैं? A. तीरंदाजी B. शूटिंग C. तैराकी D. शतरंज |
| 16 | Indian Institute of Oilseeds Research is located at A. Hyderabad B. Bhubaneswar C. Indore D. Kanpur | 16 | भारतीय तिलहन अनुसंधान संस्थान निम्नलिखित में से किस में स्थित है A. हैदराबाद B. भुवनेश्वर C. इंदौर D. कानपुर |
| 17 | Central Drug Research Institute is located at A. Cuttack B. Chennai C. Bhopal | 17 | केंद्रीय औषधि अनुसंधान संस्थान निम्नलिखित में से किस जगह में स्थित है |

| | | | |
|----|--|----|---|
| | D. Lucknow ✓ | | A. कटक B. चेन्नई C. भोपाल D. लखनऊ |
| 18 | Rani Rampal is associated with which sports? A. Archery B. Shooting C. Hockey ✓ D. Chess | 18 | रानी रामपाल किस खेल से जुड़ी हैं? A. तीरंदाजी B. शूटिंग C. हॉकी D. शतरंज |
| 19 | Sattriya dance is associated with which state? A. Maharashtra B. Assam ✓ C. Rajasthan D. Uttarakhand ✓ | 19 | सत्रिय नृत्य किस राज्य से जुड़ा है? A. महाराष्ट्र B. असम C. राजस्थान D. उत्तराखंड |
| 20 | Who is the Chairman of 15 th Finance Commission? A. N. K. Singh ✓ B. Rakesh Mohan ✓ C. K. C. Pant D. V. V. Reddy | 20 | 15वें वित्त आयोग के अध्यक्ष कौन हैं? A. एन. के. सिंह B. राकेश मोहन C. के. सी. पंत D. वी. वी. रेड्डी |
| 21 | 'Report on Trend and Progress of Banking in India' is published officially, every year by the: A. NITI Aayog ✓ B. Ministry of Commerce C. Reserve Bank of India ✓ D. Ministry of Finance | 21 | 'भारत में बैंकिंग की प्रवृत्ति और प्रगति पर रिपोर्ट' आधिकारिक तौर पर प्रति वर्ष किस के द्वारा प्रकाशित की जाती है? A. नीति आयोग B. वाणिज्य मंत्रालय C. भारतीय रिजर्व बैंक D. वित्त मंत्रालय |
| 22 | In Jammu and Kashmir, the elections for which of the following were held in 280 constituencies over eight phases beginning 28th of November 2020 and ending on 19th December 2020. A. Legislative Assembly ✓ B. Legislative Council C. District Development Council D. Rajya Sabha | 22 | जम्मू-कश्मीर में 28 नवंबर 2020 से शुरू होकर 19 दिसंबर 2020 को समाप्त होने वाले आठ चरणों में 280 निर्वाचन क्षेत्रों में निम्नलिखित में से कौन से चुनाव हुए A. विधान सभा B. विधान परिषद C. डिस्ट्रिक्ट डेवलपमेंट काउंसिल D. राज्य सभा |
| 23 | Surajkund International Crafts Mela is held in which of the following city? A. Faridabad ✓ B. Jaipur C. Gwalior | 23 | सूरजकुंड अंतर्राष्ट्रीय शिल्प मेला निम्नलिखित शहर में से किस में आयोजित किया जाता है? A. फरीदाबाद |

| | | | |
|----|---|----|--|
| | D. Jodhpur ✓ | | B. जयपुर C. ग्वालियर D. जोधपुर |
| 24 | According to which Article of the Constitution of India is the Council of Ministers collectively responsible to the Lok Sabha? A. Article 29 B. Article 75 ✓ C. Article 35 D. Article 301 | 24 | भारत के संविधान के किस अनुच्छेद के अनुसार मंत्रिपरिषद् सामूहिक रूप से लोकसभा के प्रति जिम्मेदार है? A. अनुच्छेद 29 B. अनुच्छेद 75 C. अनुच्छेद 35 D. अनुच्छेद 301 |
| 25 | Manu Bhaker is associated with which sports? A. Shooting ✓ B. Archery C. Hockey D. Chess | 25 | मनु भाकर किस खेल से जुड़ी हैं? A. शूटिंग B. तीरंदाजी C. हॉकी D. शतरंज |
| 26 | Which of the following place does NOT have a nuclear power station? A. Ramagundam ✓ B. Rawat Bhata ✓ C. Narora ✗ D. Kalpakkam ✗ | 26 | निम्नलिखित में से किस स्थान पर परमाणु बिजलीघर नहीं है? A. रामागुंडम B. रावत भाटा C. नरौरा D. कलपक्कम |
| 27 | Kakrapar Atomic energy plant, which was declared on July 22, 2020 ready to be switched on, is situated near which of the following river A. Gandak B. Tapti ✓ C. Kosi D. Mahanadi ✓ | 27 | काकरापार परमाणु ऊर्जा संयंत्र, जिसे 22 जुलाई, 2020 को चालू होने के लिए तैयार घोषित किया गया था, निम्नलिखित में से किस नदी के समीप स्थित है A. गंडक B. ताप्ती C. कोसी D. महानदी |
| 28 | Bajrang Punia is associated with which of the following sports? A. Boxing B. Wrestling ✓ C. Hockey D. Athletics | 28 | बजरंग पूनिया निम्नलिखित खेलों में से किससे जुड़े हैं? A. बॉक्सिंग B. कुश्ती C. हॉकी D. एथलेटिक्स |
| 29 | Started by renowned Sanskrit scholar K. N. V. Iyengar, this Sanskrit Newspaper, completed its golden jubilee in the year 2020. What is the name of this | 29 | प्रसिद्ध संस्कृत विद्वान के. एन. वी. अयंगर द्वारा प्रारम्भ किये गए इस संस्कृत अखबार ने वर्ष 2020 में अपनी स्वर्ण जयंती पूरी |

| | | | |
|----|--|----|---|
| | <p>Newspaper?</p> <p>A. Sudharma ✓</p> <p>B. Subhashit ✓</p> <p>C. Sukham</p> <p>D. Sukriti ✓</p> | | <p>की। इस समाचार पत्र का नाम क्या है?</p> <p>A. सुधर्मा</p> <p>B. सुभाषित</p> <p>C. सुखम</p> <p>D. सुकृति</p> |
| 30 | <p>DIPAM is working as one of the Departments under Ministry of Finance. It deals with all matters relating to management of Central Government investments in equity including disinvestment of equity in Central Public Sector Undertakings. What is the full form of DIPAM?</p> <p>A. Department of Investment and Public Asset Management ✓</p> <p>B. Domestic Investment Protection and Account Management</p> <p>C. Department of Investment and Public Account Management</p> <p>D. Disinvestment and Investment Protection Activity Management</p> | 30 | <p>DIPAM वित्त मंत्रालय के अधीन विभागों में से एक के रूप में काम कर रहा है। यह केंद्रीय सार्वजनिक क्षेत्र के उपक्रमों में इक्विटी के विनिवेश सहित इक्विटी में केंद्र सरकार के निवेश के प्रबंधन से संबंधित सभी मामलों से संबंधित है। DIPAM का पूर्ण रूप क्या है?</p> <p>A. Department of Investment and Public Asset Management</p> <p>B. Domestic Investment Protection and Account Management</p> <p>C. Department of Investment and Public Account Management</p> <p>D. Disinvestment and Investment Protection Activity Management</p> |
| 31 | <p>National Science Day is celebrated every year on</p> <p>A. 20th February ✓</p> <p>B. 25th February</p> <p>C. 5th April</p> <p>D. 28th February ✓</p> | 31 | <p>राष्ट्रीय विज्ञान दिवस हर साल मनाया जाता है</p> <p>A. 20 फरवरी को</p> <p>B. 25 फरवरी को</p> <p>C. 5 अप्रैल को</p> <p>D. 28 फरवरी को</p> |
| 32 | <p>The official agency responsible for estimating National Income in India is</p> <p>A. Indian Statistical Institute</p> <p>B. Reserve Bank of India</p> <p>C. Central Statistics Office ✓</p> <p>D. National Council for Applied Economics and Research ✓</p> | 32 | <p>भारत में राष्ट्रीय आय का आकलन करने के लिए जिम्मेदार आधिकारिक एजेंसी है</p> <p>A. भारतीय सांख्यिकी संस्थान</p> <p>B. रिजर्व बैंक ऑफ इंडिया</p> <p>C. सेंट्रल स्टैटिस्टिक्स ऑफिस</p> <p>D. नेशनल काउंसिल फॉर एप्लाइड इकोनॉमिक्स एंड रिसर्च</p> |
| 33 | <p>Jallikattu is associated with which Indian festival?</p> <p>A. Onam</p> <p>B. Pongal ✓</p> <p>C. Gudi Padwa ✓</p> <p>D. Chhau</p> | 33 | <p>जल्लीकट्टु किस भारतीय त्योहार से सम्बंधित है?</p> <p>A. ओणम</p> <p>B. पोंगल</p> <p>C. गुड़ी पड़वा</p> <p>D. छऊ</p> |
| 34 | <p>Who is the ex-officio Chairperson of Monetary Policy Committee?</p> | 34 | <p>मौद्रिक नीति समिति के पदेन अध्यक्ष</p> |

| | | | |
|----|---|----|--|
| | <p>A. Union Finance Minister B. Revenue Secretary C. Governor, Reserve Bank of India D. Union Commerce Minister</p> | | <p>कौन हैं? A. केंद्रीय वित्त मंत्री B. राजस्व सचिव C. गवर्नर, भारतीय रिजर्व बैंक D. केंद्रीय वाणिज्य मंत्री</p> |
| 35 | <p>Good Governance Day is celebrated every year on A. 2nd October B. 10th June C. 25th December D. 16th April</p> | 35 | <p>सुशासन दिवस हर साल मनाया जाता है A. 2 अक्टूबर को B. 10 जून को C. 25 दिसंबर को D. 16 अप्रैल को</p> |
| 36 | <p>Chirag Shetty is associated with which sports? A. Badminton B. Table Tennis C. Cricket D. Lawn tennis</p> | 36 | <p>चिराग शेट्टी किस खेल से जुड़े हैं? A. बैडमिंटन B. टेबल टेनिस C. क्रिकेट D. लॉन टेनिस</p> |
| 37 | <p>The famous "Ganga Sagar Mela", is held in which state of India? A. Bihar B. West Bengal C. Jharkhand D. Uttar Pradesh</p> | 37 | <p>प्रसिद्ध "गंगा सागर मेला", भारत के किस राज्य में आयोजित किया जाता है? A. बिहार B. पश्चिम बंगाल C. झारखंड D. उत्तर प्रदेश</p> |
| 38 | <p>Which part of the Indian Constitution deals with the Directive Principles of State Policy? A. Part I B. Part III C. Part IV D. Part V</p> | 38 | <p>भारतीय संविधान का कौन सा भाग राज्य की नीति के निदेशक तत्त्व से संबंधित है? A. भाग 1 B. भाग 3 C. भाग 4 D. भाग 5</p> |
| 39 | <p>Divij Sharan is associated with which sports? A. Archery B. Shooting C. Hockey D. Lawn Tennis</p> | 39 | <p>दिविज शरण किस खेल से जुड़े हैं? A. तीरंदाजी B. शूटिंग C. हॉकी D. लॉन टेनिस</p> |
| 40 | <p>MCF (Master Control Facility) of ISRO in India is located at which of the following places? A. Jabalpur B. Dehradun C. Hyderabad D. Hassan</p> | 40 | <p>भारत में इसरो के MCF (मास्टर कंट्रोल फैसिलिटी) निम्नलिखित में से कहाँ स्थित है? A. जबलपुर में B. देहरादून में C. हैदराबाद में</p> |

| | | | |
|----|---|----|--|
| 41 | In the context of Banking and Financial Services Sector in India what is the fullform of SEBI A. Securities and Exchange Board of India B. Shares and Equities Board of India C. Stock and Economy Board of India D. Shares and Exchange Board of India | 41 | D. हासन में भारत में बैंकिंग और वित्तीय सेवा प्रणाली के संदर्भ में SEBI का फुलफॉर्म क्या है A. Securities and Exchange Board of India B. Shares and Equities Board of India C. Stock and Economy Board of India D. Shares and Exchange Board of India |
| 42 | What is the minimum age (in years) to become a member of the Rajya Sabha? A. 18 B. 30 C. 36 D. 24 | 42 | राज्यसभा का सदस्य बनने के लिए न्यूनतम आयु (वर्षों में) क्या है? A. 18 B. 30 C. 36 D. 24 |
| 43 | The Kamakhya Temple, which is often in news, is situated at A. Jaipur B. Tirupati C. Cuttack D. Guwahati | 43 | कामाख्या मंदिर, जो प्रायः समाचारों में रहता है, निम्नलिखित में से कहाँ पर स्थित है A. जयपुर B. तिरुपति C. कटक D. गुवाहाटी |
| 44 | For becoming the President of India, the minimum age is A. 25 years B. 30 years C. 35 years D. 18 years | 44 | भारत का राष्ट्रपति बनने के लिए न्यूनतम आयु क्या है? A. 25 साल B. 30 साल C. 35 वर्ष D. 18 साल |
| 45 | Atanu Das is associated with which sports? A. Archery B. Shooting C. Hockey D. Chess | 45 | अतनु दास किस खेल से जुड़े हैं? A. तीरंदाजी B. शूटिंग C. हॉकी D. शतरंज |
| 46 | Indian Institute of Petroleum is located at A. Dehradun B. Mumbai C. Raipur D. Chennai | 46 | भारतीय पेट्रोलियम संस्थान स्थित है A. देहरादून में B. मुंबई में C. रायपुर में D. चेन्नई में |

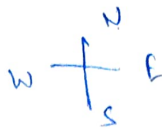
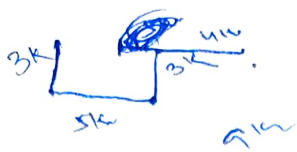
| | | | |
|----|--|----|--|
| 47 | National Institute of Immunology is located at A. Indore B. Vadodara C. Patna D. New Delhi ✓ | 47 | नेशनल इंस्टीट्यूट ऑफ इम्यूनोलॉजी स्थित है A. इंदौर में B. वडोदरा में C. पटना में D. नई दिल्ली में |
| 48 | Manish Kaushik is associated with which sports? A. Boxing ✓ B. Shooting C. Hockey D. Badminton ✓ | 48 | मनीष कौशिक किस खेल से जुड़े हैं? A. बॉक्सिंग B. शूटिंग C. हॉकी D. बैडमिंटन |
| 49 | The famous festival of 'Tsokum Samai' is celebrated in the months of September-October by the people of which state to invoke blessings for a rich harvest? A. Mizoram ✓ B. Assam C. Meghalaya D. Nagaland ✓ | 49 | 'Tsokum Samai' (सोकुम समाइ) (का प्रसिद्ध त्योहार सितंबर-अक्टूबर- के महीनों में किस राज्य के लोगों द्वारा एक समृद्ध फसल के लिए आशीर्वाद का आह्वान करने के लिए मनाया जाता है? A. मिजोरम B. असम C. मेघालय D. नागालैंड |
| 50 | Who is the current Vice-Chairman of NITI Aayog? A. Vivek Kumar B. Vijay L. Kelkar C. Rakesh Mohan ✓ D. Rajiv Kumar ✓ <i>How Suman Bary W.P.T. 01.5.22</i> | 50 | नीति आयोग के वर्तमान उपाध्यक्ष कौन हैं? A. विवेक कुमार B. विजय एल. केलकर C. राकेश मोहन D. राजीव कुमार |
| | In each of the questions 51-61, select the right option of letters/word/number from the given alternatives to replace the question mark | | प्रश्न 51-61 में से प्रत्येक में, प्रश्न चिह्न के स्थान पर उत्तर के लिए दिए गए विकल्पों में से अक्षरों/शब्द/संख्या का सही विकल्प चुनें |
| 51 | MAN: PDQ:: WAN:? 2 A. ZDQ B. NAW C. YQD D. YDQ | 51 | MAN: PDQ:: WAN:? A. ZDQ B. NAW C. YQD D. YDQ |
| 52 | CIQY: DJRZ:: AGOW:? BHPX A. BJPX B. BHPX C. BHPU D. BJRZ | 52 | CIQY: DJRZ:: AGOW:? A. BJPX B. BHPX C. BHPU D. BJRZ |

Handwritten alphabet and numbers at the top of the page.

(b)

| | | | |
|---|---|--|---|
| 53 | BYDW : FUHS :: AZCX : ? A. EVGT B. FVGT C. EGVT D. FGVT | 53 | BYDW : FUHS :: AZCX : ? A. EVGT B. FVGT C. EGVT D. FGVT |
| 54 | LAMP : IXJM :: FISH : ? A. CGPF B. CFQE C. CFPE D. CGQF | 54 | LAMP : IXJM :: FISH : ? A. CGPF B. CFQE C. CFPE D. CGQF |
| 55 | BGMR : DIOT :: SNOV : ? A. UPXQ B. QPUX C. UMPW D. UPQX | 55 | BGMR : DIOT :: SNOV : ? A. UPXQ B. QPUX C. UMPW D. UPQX |
| 56 | ADBC : WZXY :: EHFG : ? A. STUV B. TUSV C. STVU D. SVTU | 56 | ADBC : WZXY :: EHFG : ? A. STUV B. TUSV C. STVU D. SVTU |
| 57 | ZXVT : YWUS :: RPNL : ? A. XVTS B. TSQP C. SQPM D. QOMK | 57 | ZXVT : YWUS :: RPNL : ? A. XVTS B. TSQP C. SQPM D. QOMK |
| 58 | BDGJ : OQTW :: AFIM : ? A. MUSY B. MRUY C. NSVZ D. NRZV | 58 | BDGJ : OQTW :: AFIM : ? A. MUSY B. MRUY C. NSVZ D. NRZV |
| 59 | BDFH : YWUS :: JLNP : ? A. QOMK B. ACEF C. ZXUT D. UVWX | 59 | BDFH : YWUS :: JLNP : ? A. QOMK B. ACEF C. ZXUT D. UVWX |
| 60 | ACEG : BDFH :: PRTV : ? A. QSWU B. WUSQ C. OQSU D. CEGI | 60 | ACEG : BDFH :: PRTV : ? A. QSWU B. WUSQ C. OQSU D. CEGI |
| 61 | AEFJ : KOPT :: ? : QUVZ A. GLKP B. GKLP C. HLKP D. HKQL | 61 | AEFJ : KOPT :: ? : QUVZ A. GLKP B. GKLP C. HLKP D. HKQL |
| In questions 62-71, a series is given, with one term missing. Choose the correct alternative from the given ones that will complete the series. | | प्रश्न 62-71 में, एक श्रृंखला दी गई है, जिसमें एक term गायब है। दिए गए options में से सही विकल्प चुनें जो श्रृंखला को पूरा करेंगे। | |

| | | | |
|----|--|----|--|
| | From among the given alternatives select the one in which the set of numbers is most like the set of numbers given in the questions 72-76 | | प्रश्न 72-76 में दिए गए विकल्पों में से एक का चयन करें जिसमें संख्याओं का समुच्चय प्रश्न में दी गई संख्याओं के समुच्चय की भाँति है |
| 72 | Given Set: (5, 21, 85) <i>odd</i> A. (2, 6, 10) <i>even</i> B. (6, 25, 101) <i>odd</i> C. (5, 9, 17) <i>odd</i> D. (7, 12, 191) <i>odd</i> <i>21+5=26</i> | 72 | दिया गया समुच्चय: (5, 21, 85) A. (2, 6, 10) B. (6, 25, 101) C. (5, 9, 17) D. (7, 12, 191) |
| 73 | Given Set : (12, 18, 24) A. (6, 12, 30) B. (5, 15, 10) C. (10, 16, 18) D. (8, 12, 16) | 73 | दिया गया समुच्चय: (12, 18, 24) A. (6, 12, 30) B. (5, 15, 10) C. (10, 16, 18) D. (8, 12, 16) |
| 74 | Given Set: (2, 14, 16) A. (2, 7, 8) B. (3, 21, 24) C. (4, 10, 18) D. (2, 9, 16) | 74 | दिया गया समुच्चय: (2, 14, 16) A. (2, 7, 8) B. (3, 21, 24) C. (4, 10, 18) D. (2, 9, 16) |
| 75 | Given Set: (7, 15, 31) A. (7, 13, 28) B. (5, 13, 25) C. (9, 13, 26) D. (5, 11, 23) <i>7+8+16=31</i> <i>5+6+12=23</i> | 75 | दिया गया समुच्चय: (7, 15, 31) A. (7, 13, 28) B. (5, 13, 25) C. (9, 13, 26) D. (5, 11, 23) |
| 76 | Given Set: (6, 36, 216) A. (7, 49, 196) B. (8, 64, 512) C. (9, 84, 756) D. (11, 111, 1441) <i>6x6=36</i> <i>36x6=216</i> <i>8x8=64</i> <i>64x8=512</i> | 76 | दिया गया समुच्चय: (6, 36, 216) A. (7, 49, 196) B. (8, 64, 512) C. (9, 84, 756) D. (11, 111, 1441) |
| | In questions (77-100), choose the correct alternative from the given options | | प्रश्न 77-100 में, दिए गए विकल्पों में से सही विकल्प चुनें |
| 77 | If MONKO is coded as 57637, then how is KLJMN be coded as? A. 32456 B. 34256 C. 35156 D. 32546 <i>M=5</i> <i>O=7</i> <i>N=6</i> <i>K=3</i> <i>J=2</i> <i>L=4</i> | 77 | यदि MONKO को कोड भाषा में 57637 लिखा जाता है, तो KLJMN को उसी कोड भाषा में कैसे लिखा जा सकता है? A. 32456 B. 34256 C. 35156 D. 32546 |
| 78 | If PRQST is coded as 13245 and OTUWV is coded as 05687, then how is TXOQP coded? A. 59021 B. 69021 C. 21096 D. 95210 <i>O=0</i> <i>R=1</i> <i>Q=2</i> <i>S=3</i> <i>T=4</i> <i>U=5</i> <i>V=6</i> <i>W=7</i> | 78 | यदि PRQST को कोड भाषा में 13245 लिखा जाता है, और OTUWV को उसी कोड भाषा में 05687 लिखा जाता है तो TXOQP को उसी कोड भाषा में कैसे लिखा जा सकता है? A. 59021 B. 69021 C. 21096 D. 95210 |


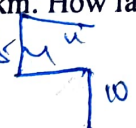


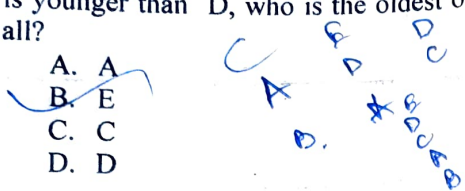

| | | | |
|----|--|----|--|
| 79 | Vivek and Ashok start from a fixed point. Vivek moves 3 km north then he turns right and covers 4 km. Ashok moves 5 km west then he turns right and walks 3 km, Now how far are they apart? A. 10 km B. 9 km C. 8 km D. 6 km | 79 | विवेक और अशोक एक तय बिंदु से शुरुआत करते हैं। विवेक 3 किमी उत्तर की ओर जाता है फिर वह दाएं मुड़ता है और 4 किमी चलता है। अशोक 5 किमी पश्चिम की ओर जाता है फिर वह दाएं मुड़ता है और 3 किमी चलता है। अब वे कितनी दूरी पर हैं ? A. 10 किमी B. 9 किमी C. 8 किमी D. 6 किमी |
| 80 | If GOLD is written as IQNF, how WIND can be written in the code? A. YKPF B. VHMC C. XJOE D. DNIW | 80 | यदि GOLD को कोड भाषा में IQNF लिखा जाता है, तो WIND को उसी कोड भाषा में कैसे लिखा जा सकता है? A. YKPF B. VHMC C. XJOE D. DNIW |
| 81 | If BUILDING is coded as 41527596 and RIVER as 85308, what will be the code for BRIDGE A. 485067 B. 485670 C. 458760 D. 485760 | 81 | यदि BUILDING को कोड भाषा में 41527596 लिखा जाता है, और RIVER को उसी कोड भाषा में 85308 लिखा जाता है तो BRIDGE को उसी कोड भाषा में कैसे लिखा जा सकता है? A. 485067 B. 485670 C. 458760 D. 485760 |
| 82 | If MUSICAL is written as KWQKACJ, how can SPRINKLE be written? A. QRPKLMJG B. UKTKPMNG C. QRBKCNJG D. QNPGLIJC | 82 | यदि MUSICAL को कोड भाषा में KWQKACJ लिखा जाता है, तो SPRINKLE को उसी कोड भाषा में कैसे लिखा जा सकता है? A. QRPKLMJG B. UKTKPMNG C. QRBKCNJG D. QNPGLIJC |
| 83 | P, Q, R and S are four friends. P is shorter than Q but taller than R. R is shorter than S. Who is the shortest among all? A. P B. Q C. R D. S | 83 | P, Q, R और S चार दोस्त हैं। P लंबाई में Q से छोटा है, लेकिन R से लंबा। R लंबाई में S से छोटा है। इन सभी के बीच सबसे छोटा कौन है? A. P B. Q C. R D. S |




PQRS

L/S
PQR

| | | | |
|----|--|----|--|
| 84 | Which of the following is not an example of behaviour of a good citizen? <input checked="" type="checkbox"/> A. Concerned only about personal interests B. Following rules and regulations of a civilised society C. Keeping the surroundings clean D. Helping others | 84 | निम्नलिखित में से कौन सा एक अच्छे नागरिक के □□□□□□ का उदाहरण नहीं है? A. केवल व्यक्तिगत हितों के बारे में चिंतित होना B. एक सभ्य समाज के नियमों और विनियमों का पालन करना C. आसपास के वातावरण को साफ रखना D. दूसरों की मदद करना |
| 85 | Akhil starts from a point and walks 5 kms north, he then turns left and walks 3 kms. Then again he turns left and walks 5 kms. Point out the direction in which he is going now. <input checked="" type="checkbox"/> A. North <input checked="" type="checkbox"/> B. South C. East D. West | 85 | अखिल एक बिंदु से शुरू करता है और 5 किमी उत्तर की ओर चलता है, फिर वह बाएं मुड़ता है और 3 किमी चलता है। वह फिर बाएं मुड़ता है और 5 किमी चलता है। बताइये कि वह अब किस दिशा में जा रहा है। A. उत्तर B. दक्षिण C. पूर्व D. पश्चिम |
| 86 | If GLARE is coded as 67810 and MONSOON as 2395339 then how can RANSOM be coded? A. 183952 B. 198532 C. 189352 <input checked="" type="checkbox"/> D. 189532 | 86 | यदि GLARE को कोड भाषा में 67810 लिखा जाता है, और MONSOON को उसी कोड भाषा में 2395339 लिखा जाता है तो RANSOM को उसी कोड भाषा में कैसे लिखा जा सकता है? A. 183952 B. 198532 C. 189352 D. 189532 |
| 87 | What is an important quality of a healthy relationship? <input checked="" type="checkbox"/> A. Communication gap <input checked="" type="checkbox"/> B. Mutual respect C. Bullying D. Criticizing | 87 | एक स्वस्थ रिश्ते की एक महत्वपूर्ण विशेषता क्या है? A. संवाद हीनता B. आपसी सम्मान C. डराना-धमकाना D. आलोचना |
| 88 | In a certain code language, LINKS is written as 93210 and CROMA is written as 84576. How is ROCKS written in that code language? A. 81054 | 88 | यदि LINKS को कोड भाषा में 93210 लिखा जाता है, और CROMA को उसी कोड भाषा में 84576 लिखा जाता है तो ROCKS को उसी कोड भाषा में कैसे लिखा जा सकता है? |

| | | | |
|----|--|----|--|
| | <p>B. 83106 C. 45810 D. 10486</p> | | <p>A. 81054 B. 83106 C. 45810 D. 10486</p> |
| 89 | <p>There are five books A, B, C, D and E placed on the table. If A is placed below E, C is placed above D, B is placed below A and D is placed above E, then which of the following book touches the surface of the table?</p> <p>A. A B. B C. C D. D</p>  | 89 | <p>मेज पर पांच किताबें A, B, C, D और E रखी गई हैं। यदि A को E के नीचे रखा जाता है, C को D के ऊपर रखा गया है, B को A के नीचे और D को E के ऊपर रखा गया है, तो निम्नलिखित पुस्तक में से कौन सी मेज की सतह को छूती है?</p> <p>A. A B. B C. C D. D</p> |
| 90 | <p>If GARDEN is coded as 325764 and WATER as 92165, how can we code the word WARDEN in the same way?</p> <p>A. 925764 B. 295764 C. 952764 D. 957264</p> <p>Handwritten notes: 92, G=3, A=2, R=5, D=7, E=6, N=4, W=9, T=1</p> | 90 | <p>यदि GARDEN को कोड भाषा में 325764 लिखा जाता है, और WATER को उसी कोड भाषा में 92165 लिखा जाता है तो WARDEN को उसी कोड भाषा में कैसे लिखा जा सकता है?</p> <p>A. 925764 B. 295764 C. 952764 D. 957264</p> |
| 91 | <p>If RUSH is coded as 66, then how is GIRL coded as?</p> <p>A. 75 B. 64 C. 47 D. 46</p> <p>Handwritten notes: 18+21+19+8=66, 40+26=66, 9+18+12=39</p> | 91 | <p>यदि RUSH को कोड भाषा में 66 लिखा जाता है, तो GIRL को उसी कोड भाषा में कैसे लिखा जा सकता है?</p> <p>A. 75 B. 64 C. 47 D. 46</p> |
| 92 | <p>If BROAD is written as 19812, CLOCK can be written as</p> <p>A. 68262 B. 68622 C. 26826 D. 37836</p> <p>Handwritten notes: B=1, R=9, O=8, A=1, D=2</p> | 92 | <p>यदि BROAD को कोड भाषा में 19812 लिखा जाता है, तो CLOCK को उसी कोड भाषा में कैसे लिखा जा सकता है?</p> <p>A. 68262 B. 68622 C. 26826 D. 37836</p> |
| 93 | <p>Ramesh travels 10 km towards the north, then he turns left and travels 4 km. Then he turns right and covers another 5 km. He then turns right and travels another 4 km. How far is he from the starting point?</p> <p>A. 5 km B. 10 km C. 15 km</p>  | 93 | <p>रमेश उत्तर की ओर 10 किमी चलता है, फिर वह बाएं मुड़ता है और 4 किमी चलता है। फिर वह दाएं मुड़ता है और 5 किमी चलता है। फिर वह दाएं मुड़ता है और 4 किमी चलता है। वह शुरुआती बिंदु से कितनी दूर है?</p> <p>A. 5 किमी</p> |

| | | | |
|----|---|----|--|
| | D. 19 km. | | B. 10 किमी C. 15 किमी D. 19 किमी |
| 94 | <p>A is older than B but younger than C. D is younger than E but older than A. If C is younger than D, who is the oldest of all?</p> <p>A. A B. E C. C D. D</p>  | 94 | <p>A आयु में B से बड़े हैं, लेकिन C से छोटे हैं। D आयु में E से छोटे हैं, लेकिन A से बड़े हैं। यदि C आयु में D से छोटे हैं, तो सबसे बड़े कौन हैं?</p> <p>A. A B. E C. C D. D</p> |
| 95 | <p>You are playing football in a park. When you blindly kick the ball, it strikes and breaks the glass pane of window of a nearby house. What would you do out of the following options</p> <p>A. say that it was no fault of yours. B. arrogantly demand your ball back from the house owner C. stealthily get your ball back D. apologise to the house owner and contribute to replace the glass.</p> | 95 | <p>आप एक पार्क में फुटबॉल खेल रहे हैं। जब आप बिना देखे गेंद को किक मारते हैं, तो यह पास के एक घर की खिड़की को चोट करता है और उसके शीशे को तोड़ता है। आप निम्नलिखित विकल्पों में से क्या करेंगे?</p> <p>A. कहेंगे कि इसमें आपकी कोई गलती नहीं थी B. अपनी गेंद को घर के मालिक से घमंड से वापस मांगेंगे C. छिपकर अपनी गेंद को वापस प्राप्त करेंगे D. घर के मालिक से माफी मांगेंगे और शीशे को बदलवाने में योगदान देंगे</p> |
| 96 | <p>Sohan started from point X and travelled forward 8 km up to point Y, then he turned towards right and travelled 5 km up to point Z. He then turned right and travelled 7 km up to point A. He then turned towards right and travelled 5 km up to B. What is the distance between point B and X?</p> <p>A. 1 km B. 2 km C. 3 km D. 4 km</p>  | 96 | <p>सोहन ने बिंदु X से शुरुआत की और 8 किमी चल कर बिंदु Y पहुंचा, फिर वह दाईं ओर मुड़ गया और 5 किमी चला और बिंदु Z तक पहुंचा। वह फिर दाईं ओर मुड़ गया और 7 किमी चला और बिंदु A पहुंचा। वह फिर दाईं ओर मुड़ गया और 5 किमी चला और बिंदु B तक पहुंचा। बिंदु B और बिंदु X के बीच की दूरी क्या है?</p> <p>A. 1 किमी B. 2 किमी C. 3 किमी D. 4 किमी</p> |
| 97 | Gopal is older than Mohan but younger | 97 | गोपाल आयु में मोहन से बड़े हैं लेकिन |

| | | | |
|--|--|-----|--|
| | <p>than Ram. Mohan is older than Sohan but younger than Ram. Who is the oldest?</p> <p>A. Gopal B. Mohan C. Ram D. Sohan</p>  | | <p>राम से छोटे हैं। मोहन सोहन से बड़े हैं लेकिन राम से छोटे हैं। सबसे बड़े कौन है?</p> <p>A. गोपाल B. मोहन C. राम D. सोहन</p> |
| 98 | <p>Among five friends A, B, C, D and E, A is shorter than B but taller than E. C is taller than B. D is shorter than B. D is taller than A. Who is the shortest?</p> <p>A. A B. E C. C D. D</p>  | 98 | <p>पांच दोस्तों A, B, C, D, E में से A लंबाई में B से छोटा है, लेकिन E से लंबा है। C B से लंबा है। D B से छोटा है। D A से लंबा है। सबसे छोटा कौन है?</p> <p>A. A B. E C. C D. D</p> |
| 99 | <p>If you are participating in a football match in the tournament, then you should</p> <p>A. hurt the opposing team members B. start shouting on losing the match C. accept victory or defeat like a true sportsman D. use unfair means to win</p> | 99 | <p>यदि आप टूर्नामेंट में एक फुटबॉल मैच में भाग ले रहे हैं, तो आप निम्नलिखित विकल्पों में से क्या करेंगे?</p> <p>A. विरोधी टीम के सदस्यों को चोट पहुंचाएंगे B. मैच हारने पर चिल्लाना शुरू करेंगे C. एक सच्चे खिलाड़ी की तरह जीत या हार स्वीकार करेंगे D. जीतने के लिए अनुचित साधनों का उपयोग करेंगे</p> |
| 100 | <p>Anand drives 10 km. towards west and turns to left and takes a drive of another 4 km. He then drives towards east another 4 km and then turns to his right and drives 5 km. Afterwards he turns to his left and drives 6 km. In which direction is he from the starting point?</p> <p>A. North B. East C. West D. South</p>  | 100 | <p>आनंद पश्चिम की ओर 10 किमी ड्राइव करता है और बाईं ओर मुड़ जाता है फिर 4 किमी ड्राइव करता है। फिर वह पूर्व की ओर 4 किमी ड्राइव करता है और फिर दाएं मुड़ जाता है और 5 किमी ड्राइव करता है। बाद में वह बाईं ओर मुड़ जाता है और 6 किमी ड्राइव करता है। वह शुरुआती बिंदु से किस दिशा में है?</p> <p>A. उत्तर B. पूर्व C. पश्चिम D. दक्षिण</p> |
| <p>Read the passage given below and answer the questions 101-105</p> | | | |

Most of the people who appear most often and most gloriously in the history books are great conquerors and generals and soldiers, whereas the people who really helped civilization forward are often never mentioned at all. We do not know who first set a broken leg, or launched a seaworthy boat, or calculated the length of the year, or manured a field; but we know all about the killers and destroyers. People think a great deal of them, so much so that on all the highest pillars in the great cities of the world you will find the figure of a conqueror or a general or a soldier. And I think most people believe that the greatest countries are those that have beaten in battle the greatest number of other countries and ruled over them as conquerors. It is just possible they are, but they are not the most civilized. Animals fight; so do savages; hence to be good at fighting is to be good in the way in which an animal or a savage is good, but it is not to be civilized. Even being good at getting other people to fight for you and telling them how to do it most efficiently - this, after all, is what conquerors and generals have done - is not being civilized. People fight to settle quarrels. Fighting means killing, and civilized peoples ought to be able to find some way of settling their disputes other than by seeing which side can kill off the greater number of the other side, and then saying that that side which has killed most has won. And not only has won, but, because it has won, has been in the right. For that is what going to war means; it means saying that might is right.

That is what the story of mankind has on the whole been like. Even our own age has fought the two greatest wars in history, in which millions of people were killed or mutilated. And while today it is true that people do not fight and kill each other in the streets - while, that is to say, we have got to the stage of keeping the rules and behaving properly to each other in daily life - nations and countries have not learnt to do this yet, and still behave like savages.

But we must not expect too much. After all, the race of men has only just started. From the point of view of evolution, human beings are very young children indeed, babies, in fact, of a few months old. Scientists reckon that there has been life of some sort on the earth in the form of jellyfish and that kind of creature for about twelve hundred million years; but there have been men for only one million years, and there have been civilized men for about eight thousand years at the outside. These figures are difficult to grasp; so let us scale them down. Suppose that we reckon the whole past of living creatures on the earth as one hundred years; then the whole past of man works out at about one month, and during that month there have been civilizations for between seven and eight hours. So you see there has been little time to learn in, but there will be oceans of time in which to learn better. Taking man's civilized past at about seven or eight hours, we may estimate his future, that is to say, the whole period between now and when the sun grows too cold to maintain life any longer on the earth, at about one hundred thousand years. Thus mankind is only at the beginning of its civilized life, and as I say, we must not expect too much. The past of man has been on the whole a pretty beastly business, a business of fighting and bullying and gorging and grabbing and hurting. We must not expect even civilized peoples not to have done these things. All we can ask is that they will sometimes have done something else.

- 101 "From the point of view of evolution, human beings are very young children indeed." The author says this in order to show that
- A. very young children are not civilised.
 - B. evolution does not help civilization forward.
 - C. human beings have learnt very little in a very long time.

| | |
|---|--|
| | D. human beings are still at the beginning of their life on earth. |
| 102 | <p>"We must not expect even civilized people not to have done these things." By this statement, the author suggests that</p> <p>A. there is nothing wrong if civilized people do some fighting and bullying.</p> <p>B. those who have done any fighting and bullying cannot be considered civilized.</p> <p>C. civilized people have never done any fighting and bullying.</p> <p>D. even civilized people have done some fighting and bullying.</p> |
| 103 | <p>"Even our own age has fought the two greatest wars in history". The author says that in order to show that our own age is</p> <p>A. different from those of the past.</p> <p>B. much better than those of the past</p> <p>C. not so civilized as those of the past</p> <p>D. not much better than those of the past</p> |
| 104 | <p>On all the highest pillars in the great cities of the world, we find</p> <p>A. the figure of some conqueror or general or soldier.</p> <p>B. the figure of the same conqueror or general or soldier.</p> <p>C. a figure representing the number of conquerors, generals or soldiers in that country.</p> <p>D. the figure of a person who helped civilization forward.</p> |
| 105 | <p>Most people believe that the greatest countries are</p> <p>A. those that won the greatest number of battles against other countries.</p> <p>B. those that built the highest pillars.</p> <p>C. those that were beaten in battle by the greatest number of other countries.</p> <p>D. those that were ruled by the greatest number of conquerors.</p> |
| In the questions 106-112, choose the word OPPOSITE in meaning to the given word. | |
| 106 | <p>Meandering</p> <p>A. sliding</p> <p>B. sloping</p> <p>C. strained</p> <p>D. straight</p> |
| 107 | <p>Infirmity</p> <p>A. strength</p> <p>B. parsimony</p> <p>C. prodigal</p> <p>D. nexus</p> |
| 108 | <p>Debacle</p> <p>A. dwindle</p> <p>B. conventional</p> <p>C. success</p> <p>D. echo</p> |
| 109 | <p>Fortify</p> <p>A. encourage</p> <p>B. exculpation</p> <p>C. crucify</p> <p>D. weaken</p> |
| 110 | <p>Brutal</p> <p>A. approbation</p> <p>B. credulous</p> <p>C. humane</p> |

| | |
|---|---|
| | D. malevolent |
| 111 | Apocryphal A. authentic ✓ B. dubious C. unsubstantiated ✓ D. fictitious |
| 112 | Pernicious A. separate B. destructive ✓ C. depend D. beneficial ✓ |
| In the questions 113-118, there are sentences with a blank in each sentence. Choose the right answer to fill in the blank | |
| 113 | Give an example pertinent _____ the case. A. with B. on C. for D. to ✓ |
| 114 | He must refrain _____ using abusive words. A. off B. through C. from ✓ D. against |
| 115 | The house is being _____ by the mason. A. build ✓ B. built C. building D. builds ✓ |
| 116 | If you are averse _____ recommending my name, you should not hesitate to admit it. A. about B. for ✓ C. to D. against |
| 117 | The gate _____ by the watchman on duty. A. open ✓ B. opened ✓ C. was opening ✓ D. was opened ✗ |
| 118 | I looked at my damaged car and _____ how much it would cost to repair it. A. wondering B. wondered ✓ C. wonder D. wonders |
| In the questions 119-125, out of the four alternatives, choose the one which best expresses the meaning of the given word. | |
| 119 | Morose A. mellifluous B. lenient C. conceal |

| | |
|-----|---|
| | D. gloomy ✓ |
| 120 | Veracity A. freedom ✓ B. truthfulness ✓ C. wisdom D. loyalty |
| 121 | Hyperbole A. relevant ✓ B. authentic ✓ C. exaggeration ✓ D. discomfiture |
| 122 | Feign A. external B. pretend ✓ C. destroy D. grotesque |
| 123 | Fiasco A. failure ✓ B. improve ✓ C. pragmatic ✓ D. deficit ✓ |
| 124 | Ameliorate A. improve ✓ B. degrade ✓ C. motivate ✓ D. agree |
| 125 | Trite A. fearless ✓ B. commencement C. insolent D. commonplace ✓ |

Noting and Drafting/ टिप्पणी एवं प्रारूपण

Question 1 : Chief Secretary of state 'MN' has sent a letter to the CPMG of Circle 'MN' requesting a special Aadhaar camp for the employees of the state secretariat. You are working in the concerned branch in the Circle Office. Please process this request and write an appropriate note seeking orders of competent authority in the matter.

OR

Shri 'KL', a resident of locality Patel Nagar has sent a written complaint to SSPOs of 'NP' Division that Shri 'UV', Postmaster Patel Nagar behaves improperly with the customers. You are working in the concerned branch in the Divisional Office. Please process this complaint and write an appropriate note seeking orders of competent authority in the matter.

प्रश्न 1 : 'MN' राज्य के मुख्य सचिव ने सर्किल 'MN' के CPMG को एक पत्र भेजा है जिसमें राज्य सचिवालय के कर्मचारियों के लिए विशेष आधार शिविर लगाने का अनुरोध किया गया है। आप सर्किल कार्यालय में संबंधित शाखा में कार्यरत हैं। कृपया इस अनुरोध को process करें और इस मामले में सक्षम अधिकारी के आदेश हेतु उचित नोट लिखें।

अथवा

पटेल नगर इलाके के निवासी श्री 'KL' ने 'NP' डिवीजन के SSPOs को लिखित शिकायत भेजी है कि श्री 'UV', पोस्टमास्टर पटेल नगर ग्राहकों के साथ अनुचित व्यवहार करते हैं। आप मंडल कार्यालय में संबंधित शाखा में कार्यरत हैं। कृपया इस शिकायत को process करें और इस मामले में सक्षम अधिकारी के आदेश हेतु उचित नोट लिखें।

Question 2 : CPMG of Circle 'DK' wants to request Director of Doordarshan Kendra 'LM' ('LM' is Capital of State 'DK') to record the Republic Day celebrations being organized at the Circle Office and telecast the same. You are working in the concerned branch in the Circle Office. Please draft an appropriate letter addressed to Director of Doordarshan Kendra 'LM' in the matter.

OR

SPOs 'AS' Division wants to request Superintendent of Police of district 'AS' to increase police patrol near Postal Colony, as anti-social elements are disturbing the peace in that area. You are working in the concerned branch in the Divisional Office. Please draft an appropriate letter addressed to Superintendent of Police in the matter.

प्रश्न 2 : सर्किल 'DK' के CPMG, दूरदर्शन केंद्र 'LM' ('DK' राज्य की राजधानी 'LM' है) के निदेशक से अनुरोध करना चाहते हैं कि वे सर्किल कार्यालय में मनाए जाने वाले गणतंत्र दिवस समारोह को रिकॉर्ड करें और इसका प्रसारण करें। आप सर्किल कार्यालय में संबंधित शाखा में कार्यरत हैं। कृपया इस मामले में निदेशक, दूरदर्शन केंद्र 'LM' को संबोधित एक उचित पत्र का मसौदा तैयार करें।

अथवा

SPOs 'AS' डिवीजन डाक कॉलोनी के पास पुलिस गश्ती बढ़ाने के लिए जिला 'AS' के पुलिस अधीक्षक से अनुरोध करना चाहते हैं, क्योंकि असामाजिक तत्व उस क्षेत्र में शांति भंग कर रहे हैं। आप मंडल कार्यालय में संबंधित शाखा में कार्यरत हैं। कृपया इस मामले में पुलिस अधीक्षक को संबोधित एक उचित पत्र का मसौदा तैयार करें।